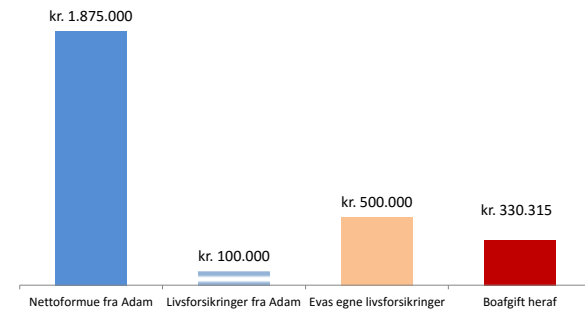


GRAF 3,2 med særbørn Når den sidste dør

GRAF 3, FORDELING AF LÆNGSTLEVENDES FORMUE FORMUEFÆLLESSKAB OG SKILSMISSESÆREJE

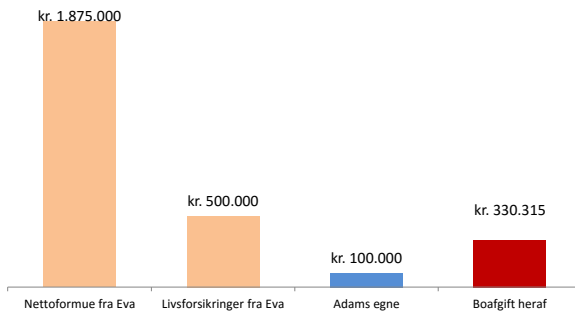
Denne graf fortæller, hvordan længstlevendes formue kan fordeles, således at der bliver ligedeling mellem alle børn
Adam og Eva har 2 fællesbørn. Eva har 1 særbørn. Adam har 3 særbørn.

Når Eva engang dør som den sidste vil hun efterlade sig



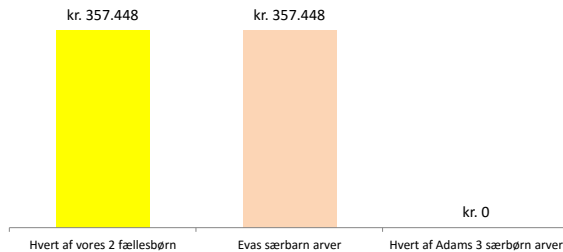
Eva har efter Adams død overtaget 1.875.000 kr. - se graf ovenfor.
Eva fik forsikringssummer udbetalt med anslået 100.000 kr.
Eva har selv forsikringer, der udbetales med anslået 500.000 kr. til hendes børn.
Eva havde 1 særbørn og hun og Adam havde 2 fællesbørn.
Adams 3 særbørn arver kun Eva, hvis det bestemmes i et testamente.

Når Adam engang dør som den sidste vil han efterlade sig

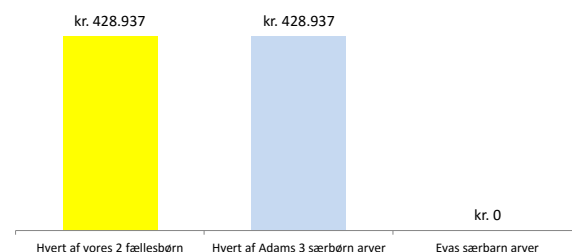


Adam har efter Evas død overtaget 1.875.000 kr. - se graf ovenfor.
Adam fik forsikringssummer udbetalt med anslået 500.000 kr.
Adam har selv forsikringer, der udbetales med anslået 100.000 kr. til hans børn.
Adam havde 3 særbørn og han og Eva havde 2 fællesbørn.
Evas særbørn arver kun Adam, hvis det bestemmes i et testamente.

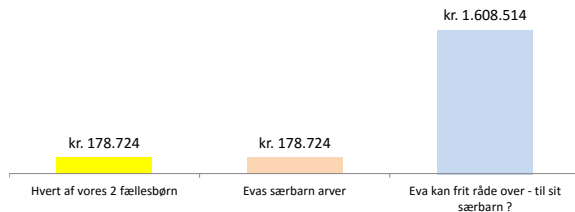
Uden testamente bliver formuen delt således



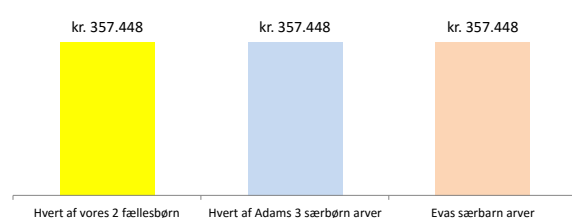
Uden testamente bliver formuen delt således



MED testamente KAN det blive således



MED testamente KAN det blive således



Lighedeling kan opnås ved, at der forlods testamenteres 41.667 kr. til hvert af Adams 3 særbørn, medens resten deles lige

Ingen må benytte disse grafer mm uden min tilladelse.

Tak til Niels Flindt for uvurdelig hjælp med udarbejdelsen